


제 4 교시

# 사회탐구 영역(세계사)

성명	수험 번호
----	-------

- 자신이 선택한 과목의 문제지인지 확인하시오.
- 문제지의 해당란에 성명과 수험 번호를 정확히 쓰시오.
- 답안지의 해당란에 성명과 수험 번호를 쓰고, 또 수험 번호와 답을 정확히 표시하시오.
- 선택한 과목 순서대로 문제를 풀고, 답은 답안지의 '제1선택'란부터 차례대로 표시하시오.
- 문항에 따라 배점이 다르니, 각 물음의 끝에 표시된 배점을 참고하시오. 3점 문항에만 점수가 표시되어 있습니다. 점수 표시가 없는 문항은 모두 2점입니다.

1. (가)~(다)의 특징에 대한 설명으로 옳은 것은?



- ① (가) - 벽이 두껍고 내부가 어두우며 장중한 느낌을 준다.
- ② (가) - 성상을 표현한 모자이크 벽화로 정교하게 장식되어 있다.
- ③ (나) - 로마의 아치와 페르시아의 돔 건축 기술이 결합되었다.
- ④ (다) - 기하학적 문양이 새겨진 동물 조각상이 세워져 있다.
- ⑤ (다) - 거대한 창이 스테인드글라스 기법의 정교한 성화들로 장식되어 있다.

2. 그림은 냉전 시대의 주요 세력들을 보여준다. (가)~(다)에 대한 옳은 설명만을 <보기>에서 있는 대로 고른 것은?


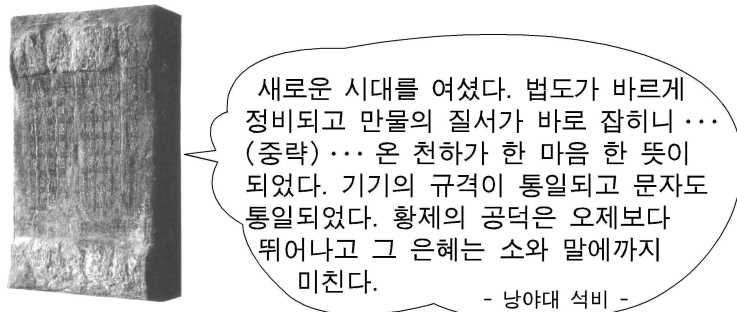


<보 기>

ㄱ. (가)는 전후 유럽의 부흥을 위해 경제적 지원에 나섰다.  
 ㄴ. (나)는 비동맹 중립주의 원칙을 표방하였다.  
 ㄷ. (다)는 '개방'과 '개혁'을 주장하며 체제 개혁을 추진하였다.  
 ㄹ. (가)와 (다)가 대립한 대표적 사례는 '베를린 봉쇄'이다.

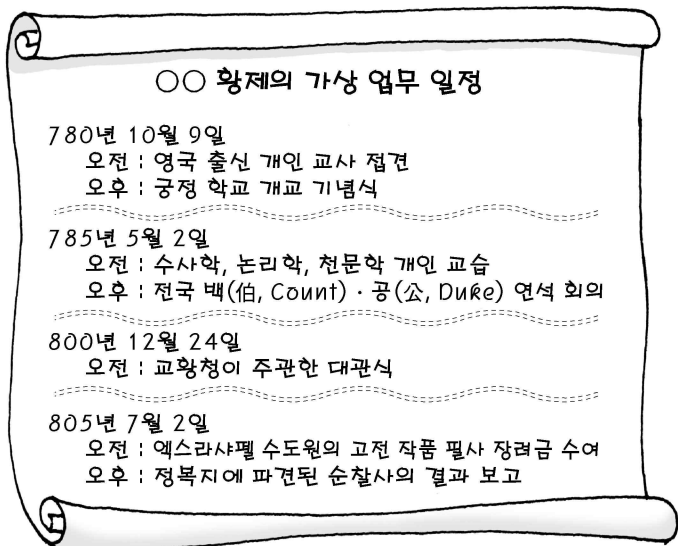
- ① ㄱ, ㄴ      ② ㄱ, ㄷ      ③ ㄴ, ㄷ
- ④ ㄱ, ㄴ, ㄹ      ⑤ ㄴ, ㄷ, ㄹ

3. 다음 석비의 내용과 관계있는 유물을 <보기>에서 고른 것은?



- ① ㄱ, ㄴ    ② ㄱ, ㄷ    ③ ㄴ, ㄷ    ④ ㄴ, ㄹ    ⑤ ㄷ, ㄹ

4. 다음 자료를 토대로 황제의 주요 정책 방향을 <보기>에서 고른 것은? [3점]

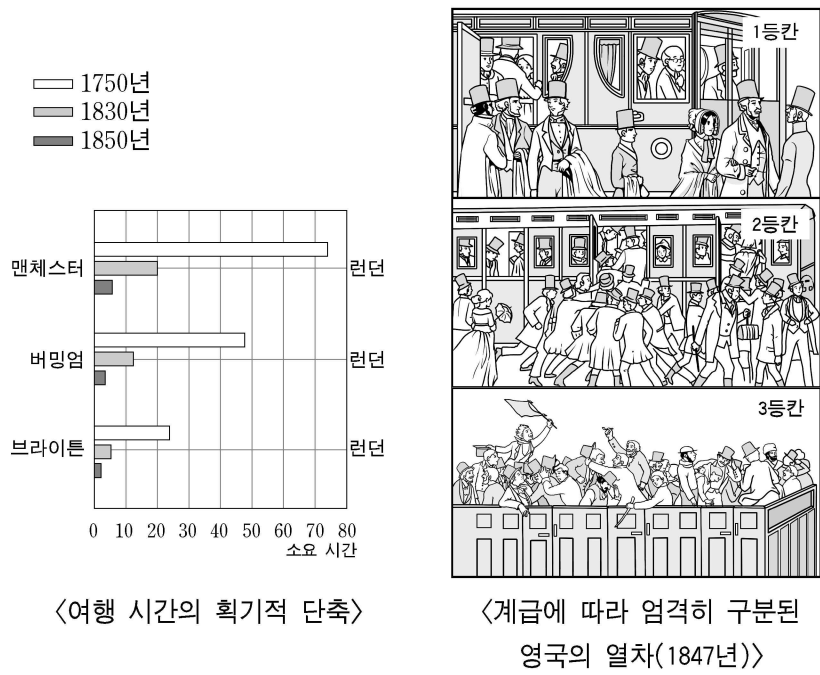


<보 기>

ㄱ. 이탈리아 경영에 주력하려고 하였다.  
 ㄴ. 라틴 문화의 르네상스를 추진하고 있었다.  
 ㄷ. 백과 공을 임명하여 중앙 집권을 도모하였다.  
 ㄹ. 교회 위에 군림하는 황제 교황주의를 확립하려고 하였다.

- ① ㄱ, ㄴ    ② ㄱ, ㄷ    ③ ㄴ, ㄷ    ④ ㄴ, ㄹ    ⑤ ㄷ, ㄹ

5. 다음 자료에 대한 적절한 추론을 <보기>에서 고른 것은? [3점]



<여행 시간의 획기적 단축>

<계급에 따라 엄격히 구분된 영국의 열차(1847년)>

<보 기>

- ㄱ. 제 1 신분과 제 2 신분의 봉건적 특권이 강화되었을 것이다.
- ㄴ. 교통의 발달로 농촌에서 선대제 수공업이 발전하였을 것이다.
- ㄷ. 증기 기관차의 발달로 지역 간 교역과 교류가 활발해졌을 것이다.
- ㄹ. 선거법 개정 요구 등 하층민의 권익을 확보하려는 운동이 일어났을 것이다.

- ① ㄱ, ㄴ    ② ㄱ, ㄷ    ③ ㄴ, ㄷ    ④ ㄴ, ㄹ    ⑤ ㄷ, ㄹ

6. 다음 자료와 관련된 대외 정책의 경제적 배경으로 옳은 설명을 <보기>에서 고른 것은?

- 약한 개인과 집단 유기체는 더 강한 집단에게 예속된다. 이것이 자연의 법칙이다. 각자는 생존 경쟁에 따라 위치가 결정된다. 한 동물이 다른 동물보다 약하다면 다른 동물의 먹이가 되는 것과 마찬가지로 한 사회가 다른 사회보다 약할 때 그 사회는 다른 사회에 예속된다.  
-노비코프, 『국제 정치』-
- (우리 회사는) 만 명의 노동자, 67개 도시에 걸친 특허권, 매일 5천 톤 이상 생산되는 석탄, 모든 채굴장과 작업장, 공장으로 연결되어 있는 철길이 있어요. 오, 그럼요! 그렇고 말구요! 거기에 돈이 있어요!  
-에밀 졸라, 『제르미날』-

<보 기>

- ㄱ. 잉여 자본을 투자하기 위한 새로운 시장이 필요하였다.
- ㄴ. 중화학 공업 중심의 소수 거대 기업이 시장을 독점하였다.
- ㄷ. 자유 무역 체제를 강화하기 위해 세계 무역 기구가 발족되었다.
- ㄹ. 악화된 경제 상황을 해결하기 위해 신경제 정책(NEP)이 추진되었다.

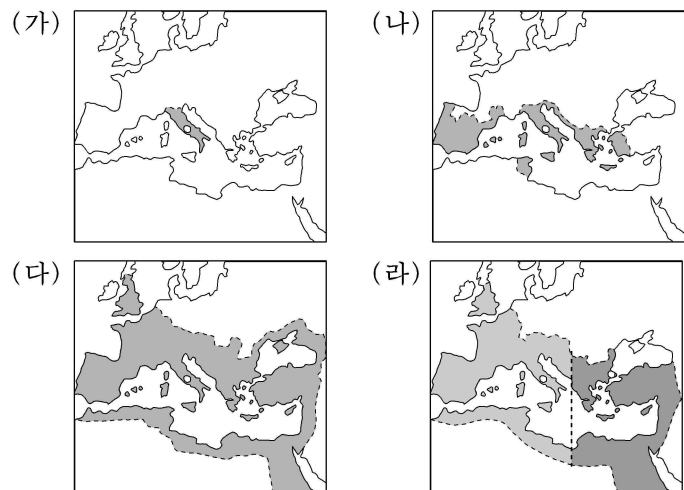
- ① ㄱ, ㄴ    ② ㄱ, ㄷ    ③ ㄴ, ㄷ    ④ ㄴ, ㄹ    ⑤ ㄷ, ㄹ

7. 다음 지도를 제작한 사람이 속한 단체와 관련된 사실로 옳지 않은 것은? [3점]



- ① 유럽의 자연 과학 지식을 중국에 전해주었다.
- ② 정확한 실측 지도인 황여전람도를 제작하였다.
- ③ 중국 최초의 크리스트 교회를 세우고 포교하였다.
- ④ 원근법 등 서양의 근대 화법을 중국에 소개하였다.
- ⑤ 중국인의 관습과 전통을 존중한 포교 활동을 펼쳤다.

8. 지도는 로마의 팽창을 보여준다. (가)~(라) 시기에 대한 옳은 설명을 <보기>에서 고른 것은? [3점]




<보 기>

- ㄱ. (가) - 그라쿠스 형제가 개혁 정치를 시도하였다.
- ㄴ. (나) - 외침에 대비하여 군관구와 둔전병제를 실시하였다.
- ㄷ. (다) - 오현제의 치세 아래 '로마의 평화'를 누렸다.
- ㄹ. (라) - 제국이 분열될 무렵 크리스트 교는 국교가 되었다.

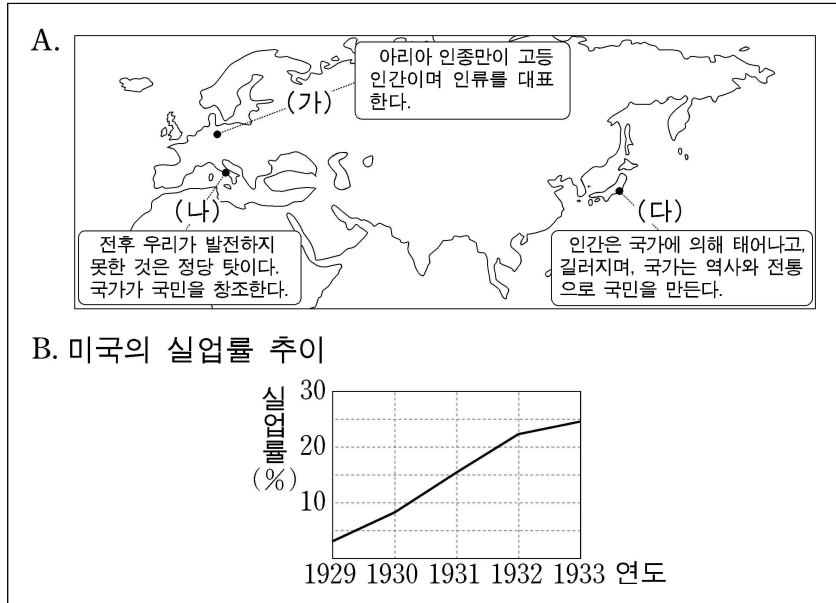
- ① ㄱ, ㄴ    ② ㄱ, ㄷ    ③ ㄴ, ㄷ    ④ ㄴ, ㄹ    ⑤ ㄷ, ㄹ

9. 그림과 관련된 역사적 사실의 영향으로 옳지 않은 것은?



- ① 일본의 요구에 대해 러시아, 독일, 프랑스가 반발하였다.
- ② 일본은 배상금을 받아 국가 주도의 산업화를 추진하였다.
- ③ 중국은 과거제를 폐지하고 교육 제도를 개혁하였다.
- ④ 중국은 서양의 근대적인 군사 기술을 수용하기 시작하였다.
- ⑤ 중국은 메이지 유신을 본 딴 정치 제도의 변혁을 시도하였다.

[10~11] 다음 자료를 보고 물음에 답하시오.



10. A의 (가)~(다) 국가의 공통된 주장으로 옳지 않은 것은? [3점]

- ① 국가의 이익을 위해 다른 지역을 확보해야 한다.
- ② 국가를 위해 개인의 권리와 자유는 제한되어야 한다.
- ③ 국가의 발전을 위해 하나의 정치 세력이 국가의 모든 권력을 장악해야 한다.
- ④ 영구적인 평화는 불가능하기 때문에 전쟁을 통해 인간의 힘을 발휘해야 한다.
- ⑤ 인종의 차이는 자연의 기본 원리이기 때문에 열등한 인종은 말살되어야 한다.

11. B가 보여주는 경제 변동이 계기가 되어 나타난 (가)~(다) 국가의 움직임으로 옳은 것은?

- ① (가) - 연방을 결성하여 블록 경제권을 형성하였다.
- ② (나) - 자본가 등의 지지를 받은 무솔리니가 정권을 잡았다.
- ③ (다) - 대륙 침략을 통해 만주국을 세웠다.
- ④ (가), (나) - 유럽의 현상 유지를 위해 삼국 동맹을 주도하였다.
- ⑤ (가), (다) - 전쟁을 막기 위해 국제 연맹을 창설하였다.

12. 다음 공연을 볼 수 있던 무렵 일본에 거주한 네덜란드인에게서 들을 수 있는 말로 적절하지 않은 것은?

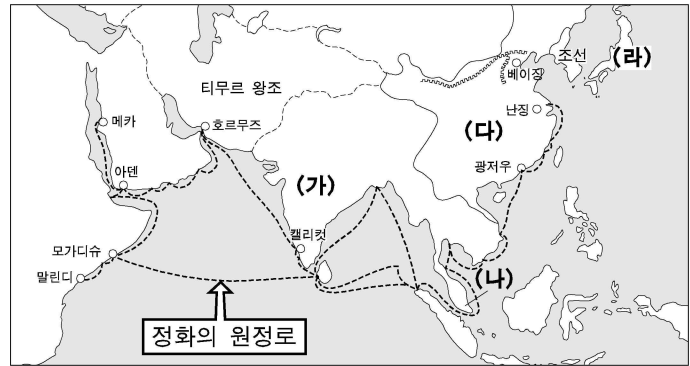
**초대장**

이 시대 최고의 가부키 '추신구라' 공연에 초대합니다.

◇ 일시 : 1748년 00월 00일 00시  
◇ 장소 : 에도 상인 요도야와의 집

- ① 최근 포르투갈 선교사들의 활동도 눈에 띄는군요.
- ② 산킨고타이를 하는 다이묘의 행렬이 대단하다더군요.
- ③ 일본 사람들이 우리들한테서 포술과 의학도 배워갔지요.
- ④ 많은 무사들이 빛 때문에 찢쩍떨 정도로 대상인들의 힘이 대단하다지요.
- ⑤ 요즘 에도에 가면 조선에서 온 통신사 행렬도 구경할 수 있다고 하더군요.

13. 지도에 해당하는 시기의 (가)~(라) 국가에 대한 옳은 설명을 <보기>에서 고른 것은? [3점]

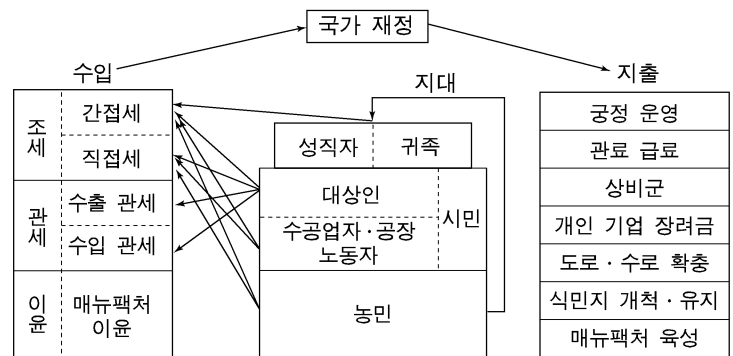


<보 기>

ㄱ. (가) - 무굴 제국의 영토가 최대로 확장되었다.  
 ㄴ. (나) - 이슬람 교를 믿는 플라카 왕국이 번영하였다.  
 ㄷ. (다) - 수도를 난징에서 베이징으로 옮겼다.  
 ㄹ. (라) - 도쿠가와 이에야스가 에도 막부를 열었다.

- ① ㄱ, ㄴ    ② ㄱ, ㄷ    ③ ㄴ, ㄷ    ④ ㄴ, ㄹ    ⑤ ㄷ, ㄹ

14. 다음 자료를 분석한 내용 중 역사적 사실로 옳지 않은 것은? [3점]



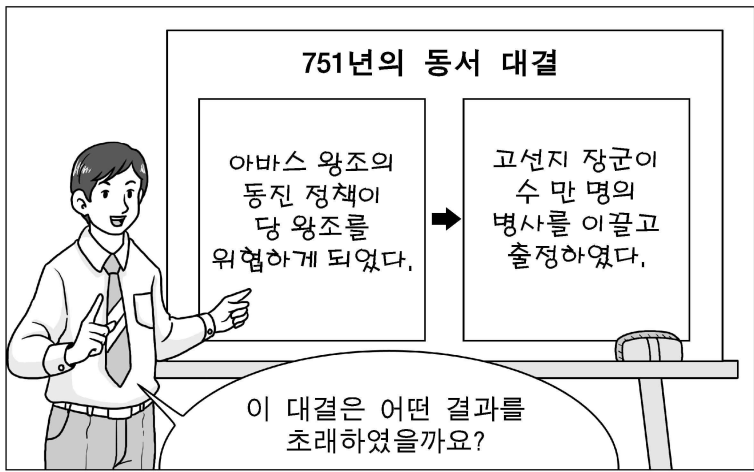
- ① 관세가 수입의 중요한 부분을 차지하였다.
- ② 국가는 기업 활동에 우호적인 정책을 실시하였다.
- ③ 농민은 조세뿐만 아니라 봉건적 지대도 부담하였다.
- ④ 왕권을 강화하려는 비용이 지출의 상당 부분을 차지하였다.
- ⑤ 대상인은 과도한 관세 부담 때문에 자유 무역을 주장하였다.

15. (가) 국가의 밑줄 친 (나)에 대한 대책으로 옳은 것은? [3점]

둘이켜보건대 안으로는 국가가 위태롭고, (나)밖으로는 오랑캐의 위협이 걱정이 됩니다. 천하의 재력은 나날이 곤궁하고 기강도 해이해지고 있습니다. 사방의 뜻있는 선비들은 천하가 오랫동안 불안한 것을 늘 근심하고 있습니다.

- ① 병농 일치적 성격의 보갑법을 실시하였다.
- ② 납세 항목을 단일화하여 은으로 내게 하였다.
- ③ 팔기군을 조직하여 변경의 방어를 강화하였다.
- ④ 맹안·모극제를 실시하여 군사력의 강화를 꾀하였다.
- ⑤ 국가로부터 토지를 지급받는 자들을 부병으로 삼았다.

16. 다음 질문에 대해 학생이 대답한 내용으로 옳은 것은?



- ① 중앙 아시아의 이슬람화가 촉진되었다.
- ② 불교와 간다라 미술이 중국에 전래되었다.
- ③ 당이 서역 경영의 주도권을 확보하게 되었다.
- ④ 역참 제도의 발달로 동서 교통이 한층 원활하게 되었다.
- ⑤ 나침반·인쇄술 등 중국의 기술이 이슬람 국가에 전파되었다.

17. 다음 자료는 새로운 의식의 출현을 보여준다. 이와 관련된 사실로 옳지 않은 것은?

○ 교황은 우신(愚神) 덕분에 우아한 생활을 하고 있다. 화려하지만 위선적인 교회 의례를 통해 충분히 그리스에게 봉사했다고 생각한다.  
 ○ 군주에게 주어진 최고의 의무는 종교와 도덕률을 따르는 것이 아니라, 국가의 권력과 안전을 유지하는 것이다. 그 목적을 달성하기 위해서는 권모술수를 포함한 현실주의적 인 정치 기술이 필요하다.

- ① 서민의 일상 생활이 그림의 소재로 활용되었다.
- ② 신앙과 이성의 조화를 추구한 가톨릭 신학이 등장하였다.
- ③ 성서와 신의 은총만이 구원의 열쇠라는 주장이 제기되었다.
- ④ 인간의 위선과 사회의 부패상을 풍자하는 소설이 출간되었다.
- ⑤ 인쇄술의 발달로 새로운 지식과 사상이 널리 전파되고 있었다.

18. 다음과 관련된 왕조에 대한 옳은 설명을 <보기>에서 고른 것은?

○ 『홍루몽』 등과 같은 구어체 소설이 널리 읽혔다.  
 ○ 실증적인 연구를 중시하는 고증학이 발달하였다.  
 ○ 『사고전서』와 『고금도서집성』 등 대규모 편찬 사업을 추진하였다.

<보 기>  
 가. 사대부가 사회의 지도층으로 등장하였다.  
 나. 색목인이 한족보다 우월한 지위에 있었다.  
 다. 옥수수·땅콩 등 외래 작물이 널리 보급되었다.  
 리. 서양 상인들은 광저우 항의 공행을 통해서만 교역할 수 있었다.

- ① 가, 나    ② 가, 다    ③ 나, 다    ④ 나, 리    ⑤ 다, 리

19. 다음 자료의 (가), (나) 사상에 대한 설명으로 옳은 것은? [3점]



- ① (가)는 '최대 다수의 최대 행복'을 추구하여 자유주의 발달에 기여하였다.
- ② (가)는 인간의 무의식과 잠재 의식을 분석함으로써 심리학의 발달에 영향을 끼쳤다.
- ③ (나)는 프랑스를 중심으로 나타났으며 시민 혁명의 사상적 배경이 되었다.
- ④ (나)는 민족주의와 결합하여 자국의 역사와 전통에 대한 관심을 고취시켰다.
- ⑤ (나)는 자유 분방하고 개인의 감정을 중시한 (가)에 대한 반발로 나타났다.

20. 다음 자료에서 제시하고 있는 주장과 동일한 성격의 구호로 가장 적절한 것은? [3점]

○ 우리는 유교와 민주 중 어느 한 쪽을 버릴 것인지 선택하여야 한다. 만약, 풍속을 고치지 않고 도덕을 혁신하지 않으면 국가 혁명은 성공할 수 없다.  
 ○ 보수적이지 말고 진보적이어라. 소극적이지 말고 진취적이어라. 채국적이지 말고 세계적이어라. 공상적이지 말고 실리적이어라.



\* 확인 사항  
 ○ 답안지의 해당란에 필요한 내용을 정확히 기입(표기)했는지 확인 하시오.